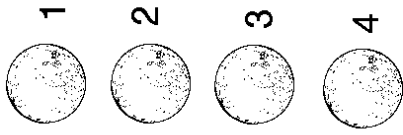
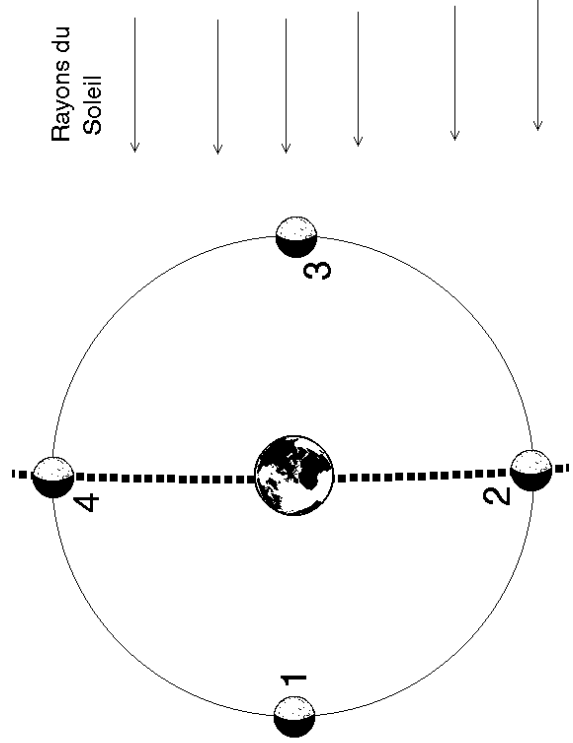


Les phases de la Lune

La Lune vue de la Terre

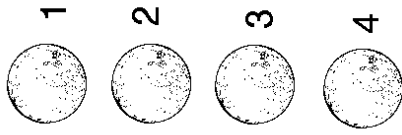


(En position 2 et 3, la Lune coupe l'orbite que parcourt la Terre autour du Soleil : elle indique la place que la Terre occupera 4 heures après dans l'Univers (position 2) ou que la Terre occupait 4 heures plus tôt (position 4))



Les phases de la Lune

La Lune vue de la Terre



(En position 2 et 3, la Lune coupe l'orbite que parcourt la Terre autour du Soleil : elle indique la place que la Terre occupera 4 heures après dans l'Univers (position 2) ou que la Terre occupait 4 heures plus tôt (position 4))

