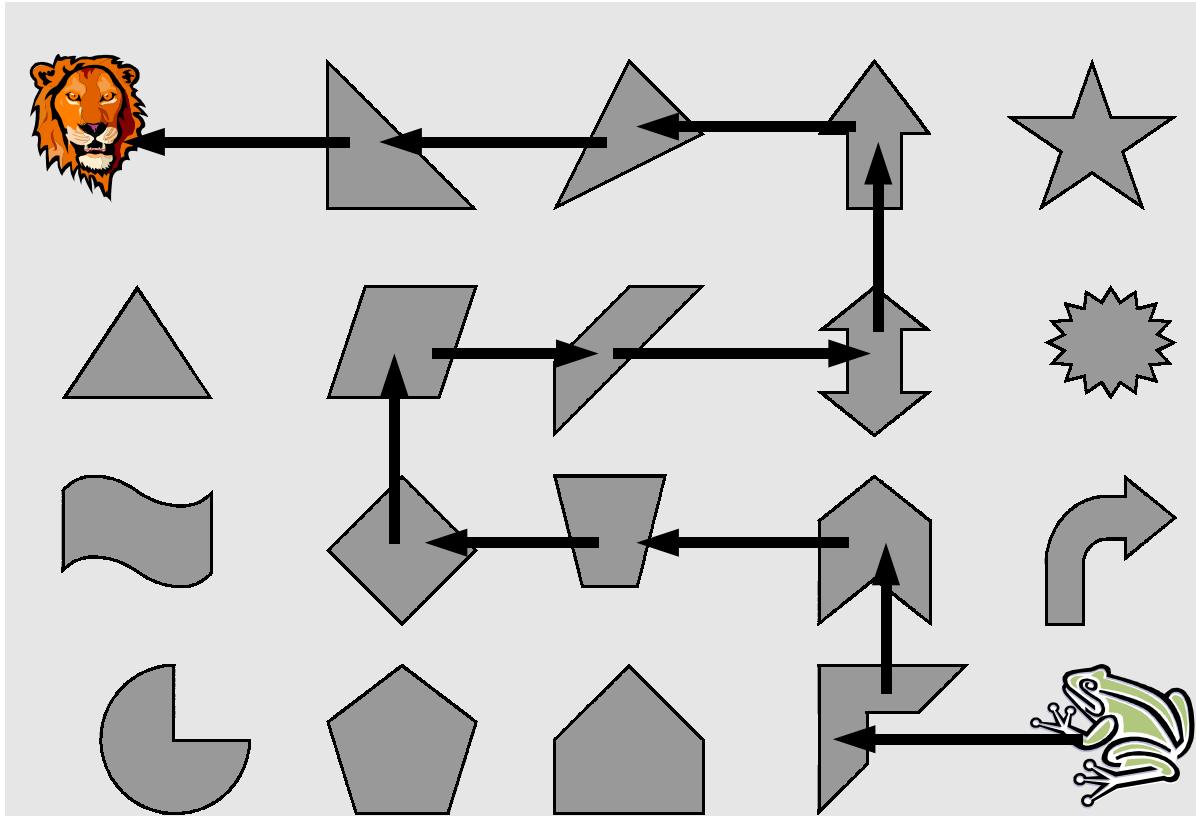


Les sauts de la grenouille



La grenouille va rejoindre le lion. Ses sauts sont représentés par des flèches.  
Combien de fois va-t-elle sauter ? . fois



Combien de fois va-t-elle sauter dans cette direction ← ? . fois

Combien de fois va-t-elle sauter dans cette direction → ? . fois

Combien de fois va-t-elle sauter dans cette direction ↑ ? . fois

Combien de fois va-t-elle sauter dans cette direction ↓ ? . fois

Recopier, en ordre, tous les sauts de la grenouille. Indiquer la direction des sauts.

|                                                                                     |  |  |  |  |  |  |  |  |  |  |  |  |                                                                                       |
|-------------------------------------------------------------------------------------|--|--|--|--|--|--|--|--|--|--|--|--|---------------------------------------------------------------------------------------|
|  |  |  |  |  |  |  |  |  |  |  |  |  |  |
|-------------------------------------------------------------------------------------|--|--|--|--|--|--|--|--|--|--|--|--|---------------------------------------------------------------------------------------|